

**مقياس: الاقتصاد الجزئي 1**

**حل السلسلة الثانية حول نظرية المنفعة الترتيبية (منحنيات السواء)**

**التمرين الأول:**

1- تحديد الأزواج التي تتواجد على نفس منحنى السواء : من خلال ترتيب القيم الواردة في الجدول نجد ان :

U1 منحنى السواء E,Q,P,F,G,T

U2 منحنى السواء C,M,N,O,D,W

U3 منحنى السواء A,B,K,U,V,L

U4 منحنى السواء H,I,S,R,J,Z

الترتيب الموجود بينها:

$C < B$  اي ان C تنتمي ل U2 و B تنتمي ل U3 أي أن  $U3 > U2$

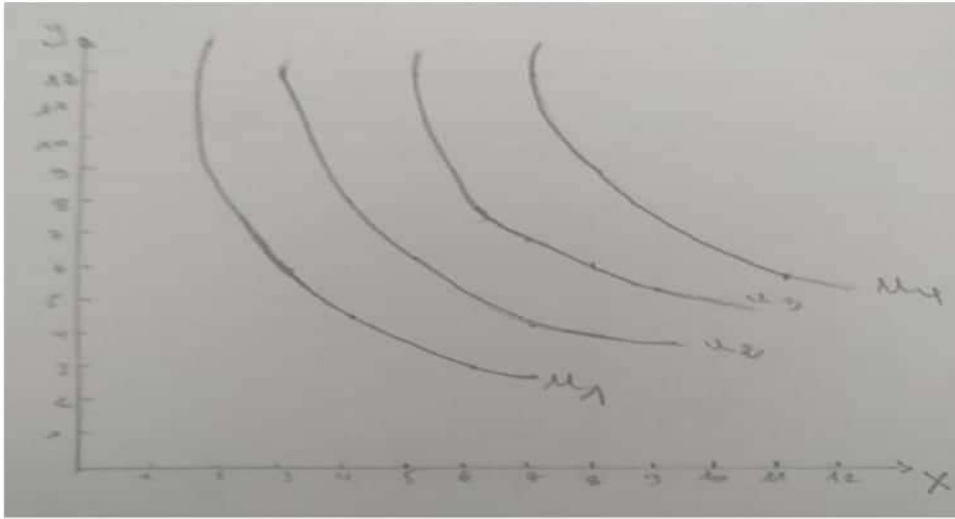
$S > K$  اي ان S تنتمي ل U4 و K تنتمي ل U3 أي أن  $U4 > U3$

$Q < O$  اي ان Q تنتمي ل U1 و O تنتمي ل U2 أي أن  $U1 < U2$

و بذلك يكون ترتيب منحنيات السواء :  $U4 > U3 > U2 > U1$

- توضح هذه المنحنيات خريطة منحنيات السواء: و التي تمثل مجموعة من التوليفات في عدة منحنيات لفرد واحد. و منحنى السواء هو المحل الهندسي لمجموعة التوليفات السلعية المختلفة التي لها نفس مستوى الإشباع ، و تتميز منحنيات السواء بالخصائص التالية:
- منحنيات السواء لا تتقاطع.
- ميل منحنى السواء سالب.
- منحنى السواء محدب من الأسفل.
- منحنيات السواء تعبر عن مستويات إشباع مختلفة و لا يمكن أن تتعادل مهما كانت الظروف.
- كلما ابتعدنا عن نقطة الأصل كلما زاد مستوى الإشباع و العكس صحيح.

• التمثيل البياني لخريطة منحنيات السواء:



## 2- المؤشر هو المعدل الحدي للإحلال TMS.

تعريفه: يقيس المعدل الحدي للإحلال الكمية من السلعة Y التي يرغب المستهلك في التنازل عنها مقابل حصوله على وحدة إضافية من السلعة X مع بقاءه على نفس منحنى السواء و المحافظة على نفس مستوى الإشباع.

حسابه : يتم حسابه اعتمادا على التمثيل البياني بناءا على ترتيب التوليفات السلعية لكل

$$\text{منحنى بالقانون : } = \text{TMS} \frac{\Delta y}{\Delta x}$$

U1	-	-7	-1.5	-1	-0.5	-0.3
U2	-	-4	-1.7	-1.3	-0.6	-0.4
U3	-	-6	-1.4	-1.3	-1	-0.6
U4	-	-3	-2	-0.7	-0.6	-0.4

## 3- من مقارنة التوليفات الواقعة على نفس منحنى السواء نجد انه:

إذا كانت  $X1 < X2$  فإن  $Y1 > Y2$  و إذا كانت  $X1 > X2$  فإن  $Y1 < Y2$ . و إذا كان غير ذلك فإن التوليفات لا تقع على نفس منحنى السواء.  
ب- اجب بصحيح أو خطأ مع تصحيح الخطأ:

1- خطأ

التصحيح: عند وضع التوازن يكون ميل منحنى السواء مساويا لميل خط الميزانية.

2- خطأ:

التصحيح: \* انتقال خط الميزانية بالكامل لأعلى جهة اليمين قد ينتج عن ثبات سعري السلعتين و ارتفاع الدخل النقدي للمستهلك.

\* انتقال خط الميزانية بالكامل لأسفل جهة اليمين قد ينتج عن ثبات سعري السلعتين و انخفاض الدخل النقدي للمستهلك.

3- خطأ :

التصحيح: تعبر المنفعة الحدية للسلعة x عن المنفعة الإضافية للوحدة الأخيرة x، اما المعدل الحدي للإحلال فيعبر عن مقدار ما يتنازل عنه المستهلك من وحدات من السلعة y مقابل الحصول على وحدة إضافية من x مع المحافظة على نفس مستوى الإشباع.

4- خطأ:

التصحيح: ينتج منحنى استهلاك الدخل عن ربط نقاط التوازن الناتجة عن تغير الدخل النقدي للمستهلك.

التمرين الثاني:

$$R = xp_x + yp_y$$

1- تحديد معادلة خط الميزانية:

$$Y = \frac{R}{P_Y} - \frac{P_X}{P_Y} X$$

$$Y = \frac{R}{12} - \frac{18}{12} X$$

و منه معادلة خط الميزانية هي:  $Y = \frac{R}{12} - \frac{3}{2} X$

2- تحديد احداثيات التماس: في حالة التماس يكون : ميل منحنى السواء = ميل خط الميزانية

$$\text{أي: } \frac{-P_X}{P_Y} = \frac{\delta y}{\delta x}$$

$$\text{لدينا معادلة منحنى السواء: } Y = \frac{6}{X}$$

$$\text{ميل منحنى السواء} = \frac{\delta y}{\delta x} = \frac{-6}{X^2}$$

$$\Rightarrow \frac{-3}{2} = \frac{-6-18}{X^2 \cdot 12} = \frac{-6}{X^2}$$

$$3X^2 = 12 \Rightarrow X^2 = 4 \Rightarrow X = 2$$

$$Y = \frac{6}{2} \Rightarrow y = 3$$

و منه احداثيات نقطة التماس هي (2,3) (x,y)

\*الدلالة الاقتصادية لهذه النقطة : تمثل نقطة التوازن.

3- حساب الدخل R:

$$R = xp_x + yp_y$$

$$2(18)+3(12)=72 \text{ um}$$

تمثيل المسألة بيانياً: معادلة خط الميزانية لما  $R=72$  هي  $Y=R/PY-Px/PY.X$

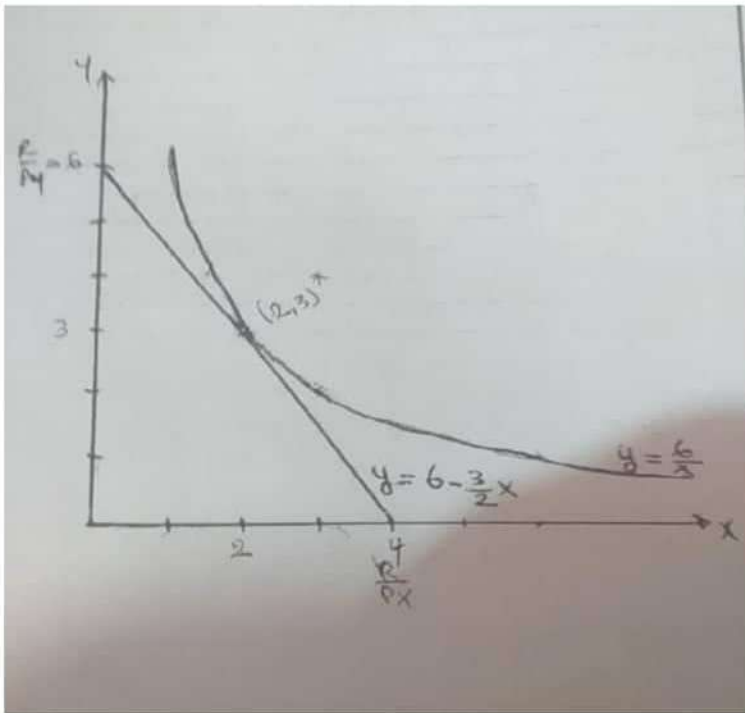
$$Y=\frac{72}{12} - \frac{3}{2}X \Rightarrow Y = 6 - \frac{3}{2}X$$

لتمثيل خط الميزانية نحتاج الى نقطتين :

X	0	R/PX=4
Y	R/PY=6	0

و لتمثيل منحنى السواء نحتاج الى النقاط التالية  $Y=6/X$

<b>X</b>	1	2	3	4	6	8
<b>Y</b>	6	3	2	1.5	1	4/3



**التمرين الثالث:**

$$ut= 2xy+3y$$

1- المنحنى يطلق عليه منحنى استهلاك الدخل:

**تحديد معادلته:**

$$L=UT+\lambda(R - XPx - YPy) = 2xy+3y+ (R - XPx - YPy)\lambda$$

$$\dot{L}x=2y-\lambda p_x =0 \Rightarrow \lambda = \frac{2y}{P_x} \dots 1$$

$$\dot{L}y=2x+3-\lambda p_y =0 \Rightarrow \lambda = \frac{2x+3}{P_y} \dots 2$$

$$\dot{L}\lambda=R-Xp_x - YP_y = 0 \dots 3$$

من 1 و 2 نجد:

$$\frac{2y}{P_x} = \frac{2x+3}{P_y}$$

$$2yP_y=2xP_x+3P_x \Rightarrow y = \frac{2xP_x+3P_x}{2P_y}$$

و منه معادلة منحنى استهلاك الدخل  $Y = \frac{P_x}{P_y}X + \frac{3P_x}{2P_y}$

2- تحديد قيمة الدخل التي لا تسمح للمستهلك باقتناء اي وحدة من السلعة X:

أي أن عدد وحدات السلعة x هي  $X=0$

نعوض قيم  $P_x=12$  و  $P_y=21$  في معادلة استهلاك الدخل نجد:

$$Y = \frac{12}{21}X + \frac{3(12)}{2(21)} = \frac{4}{7}x + \frac{6}{7}$$

$$X=0 \Rightarrow Y = \frac{6}{7}$$

$$R = XP_x + YP_y$$

$$R = 0(12) + \frac{6}{7}(21) = 18 \text{um}$$

و منه قيمة الدخل التي لا تسمح باقتناء أي وحدة من السلعة X هو 18 ون.

3- تحديد معادلتى انجلى للسلعتين X و Y:

نعوض y المعادلة 3 نجد :

$$R - XP_x - \left( \frac{2xP_x + 3P_x}{2P_y} \right) P_y = 0$$

$$2R - 2XP_x - 2XP_x - 3P_x = 0$$

$$2R - 4XP_x - 3P_x = 0 \Rightarrow 2R - 3p_x = 4XP_x$$

$$X = \frac{2R - 3P_x}{4P_x} / p_x = 12, p_y = 21$$

$$\Rightarrow X = \frac{R}{24} - \frac{3}{4}$$

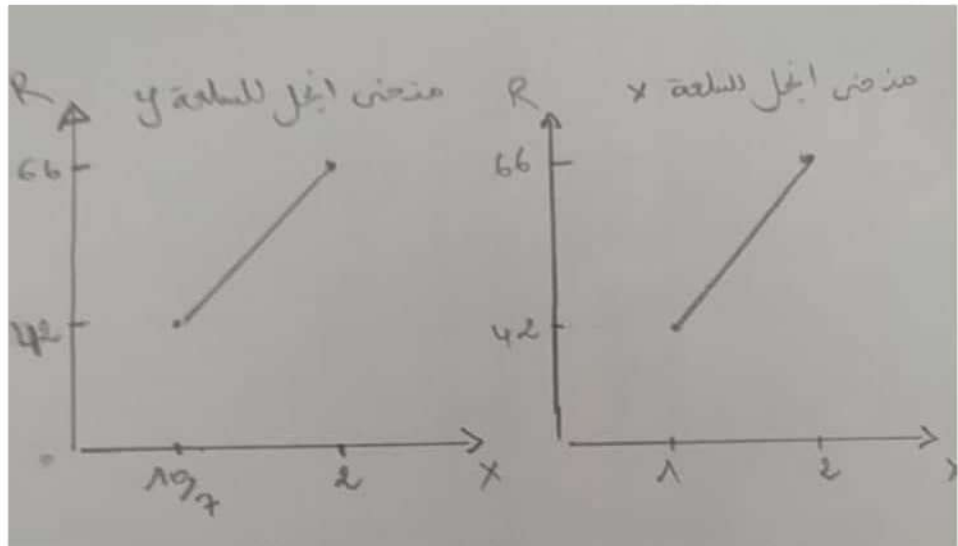
و منه معادلة منحنى انجبل للسلعة X هي:  $y = \frac{1}{24}R - \frac{3}{4}$

$$Y \text{ نعوض في } Y = \frac{12}{21} \left( \frac{1}{24}R + \frac{3}{4} \right) + \frac{3(12)}{2(21)} = \frac{1}{42}R - \frac{3}{7} + \frac{6}{7}$$

$$Y \text{ معادلة انجبل للسلعة } Y = \frac{1}{42}R + \frac{3}{7}$$

4- رسم منحنىي انجبل: نعوض في المعادلتين نجد قيم X و Y:

R	42	66
X	1	2



$$^2YUT = 2 \times$$

التمرين الرابع:

1/ ايجاد توليفة التوازن

لدينا شرط التوازن:

$$\frac{UM_x}{UM_y} = \frac{P_x}{P_y} \rightarrow \frac{4 \times Y}{2 \times 2} = \frac{3}{3} \dots \dots (1)$$

$$R = xP_x + P_y \rightarrow 90 = 3x + 3y \dots \dots (2)$$

$$\frac{4 \times Y}{2 \times 2} = \frac{3}{3} \rightarrow \frac{2y}{x} = 1 \rightarrow Y = \frac{x}{2} \dots \dots \dots (3)$$

نعوض y في معادلة الدخل (2) نجد:  
 $90 = 3x + 3(x/2)$

$$x = 20$$

$$y = 20/2 = 10$$

ومنه التوليفة التي تحقق التوازن  $(20, 10)(x, y)$

حساب المعدل الحدي للاحلال:

1/ عند أي نقطة:

$$TMS = \frac{-UMX}{UMY} = \frac{-4 \times Y}{2 \times 2} = \frac{-2Y}{X}$$

عند نقطة التوازن:

$$TMS = \frac{-2y}{x} = \frac{-2(10)}{20} = -1$$

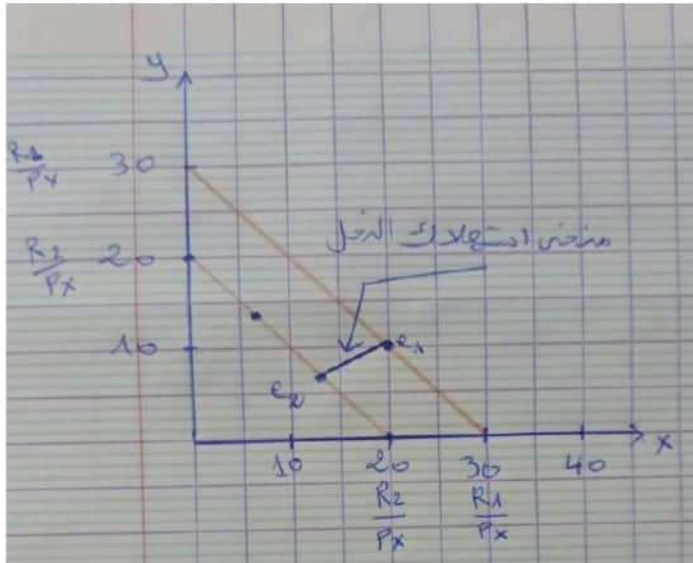
$$* TMS = \frac{-PX}{PY} = \frac{-3}{3} = -1$$

تفسيره: يتنازل المستهلك على وحدة من Y مقابل الحصول على وحدة إضافية من X .

5- بفرض ثبات  $P_x$  و  $P_y$  و انخفاض R يأخذ الى 60 ون:

R1=90	R2=60	
X=20(x, y) Y=10(20,10)	$X = \frac{40}{3}$ $y = \frac{20}{3}$	التوليفة (X, Y)
$\frac{R}{P_x} = 30$	$\frac{R}{P_x} = 20$	التقاطع مع محور الفواصل (R/Px)
$\frac{R}{P_y} = 30$	$20 = \frac{R}{P_y}$	التقاطع مع محور التراتب (R/Py)

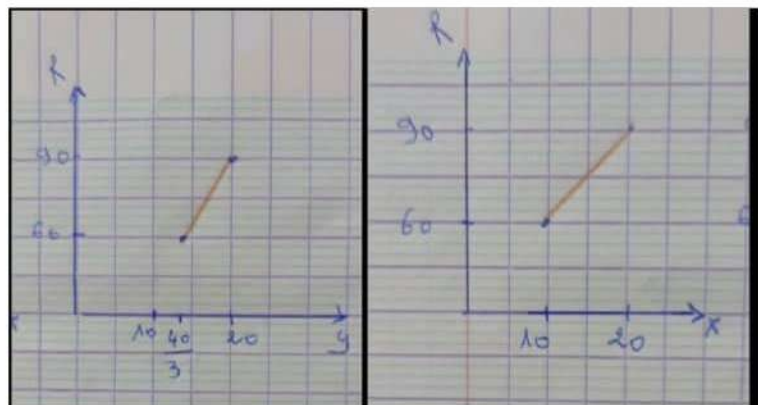
منحنى استهلاك الدخل



منحنى انجبل المرافق له:

R	60	90
Y	$\frac{20}{3}$	10

R	60	90
X	$\frac{40}{3}$	20

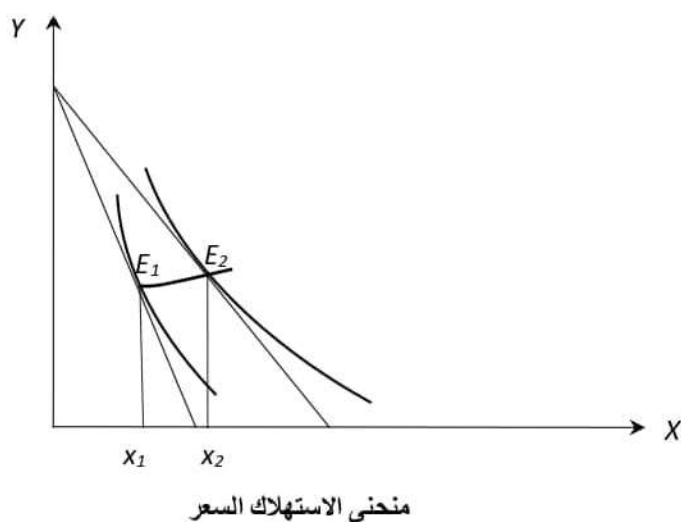


- هناك علاقة طردية بين كل من X و Y مع R ومنه X, Y سلعتان عاديتان



4- بفرض ثبات  $R$  و  $R_Y$  و ارتفاع  $P_X$  الى 4 ون:

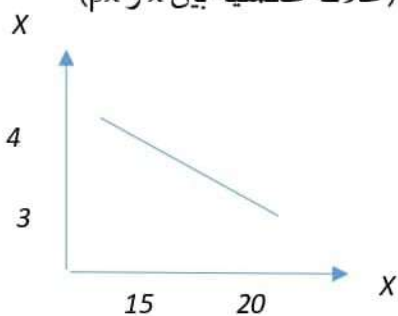
$P_x=3$	$p_x=4$	
$X=20$	$X_1=15$	التوليفة $(x, y)$
$Y=10$	$Y_1=10$	
$\frac{R}{P_x \cdot 1} = 30$	$\frac{R}{P \times 3} = 22.5$	التقاطع مع محور الفواصل $\frac{R}{P_X!}$
$\frac{R}{P_Y} = 30$	30	التقاطع مع محور التراتيب $\frac{R}{P_y}$



• اشتقاق منحنى الطلب على السلعة  $(X)$ .

نستنتج ان السلعة  $x$  سلعة عادية (علاقة عكسية بين  $x$  و  $p_x$ )

$X$	20	15
$P_x$	3	4



## إيجاد اثر الاحلال و اثر الدخل ثم الأثر الكلي

1\_ اثر الاحلال ( البقاء على نفس منحنى السواء)

من السؤال الأول لدينا

$$UT = 8000 = 2x^2 Y$$

$$y = \frac{8000}{2x^2} = \frac{4000}{x^2}$$

$$\frac{\partial Y}{\partial X} = \frac{-umx}{umy} = \frac{-Px}{-Py}$$

$$\frac{\partial Y}{\partial X} = \frac{-2(4000)}{x^4} = \frac{-8000}{x^3}$$

$$\frac{-8000}{x^3} = \frac{-4}{3} \Rightarrow 4x^3 = 3(8000) \Rightarrow x^3 = 6000$$

و منه

$$X_2 = 18.17$$

$$Y_2 = 12.11$$

اثر الاحلال

$$X_2 - X_1 = 18.17 - 20 = -1.83$$

يعمل اثر الاحلال على تخفيض الكمية المستهلكة من السلعة X.

اثر الدخل : (الانتقال الى منحنى اخر)

لدينا التوليفة الجديدة بعد تغير السعر هي (15,10) (X3;Y3)

$$\text{أثر الدخل } X_3 - X_2 = 15 - 18.17 = -3.17$$

يعمل اثر الدخل على تخفيض الكمية المستهلكة من السلعة X.

الأثر الكلي = اثر الدخل + اثر الاحلال

$$-1.83 + (-3.17) = -5$$

بما ان اثر الدخل و اثر الاحلال للسلعة X يعملان في نفس الاتجاه فإن السلعة x سلعة عادية

إنخفاض السعر ( $\downarrow P$ )			إرتفاع السعر ( $\uparrow P$ )			اتجاه السعر
ردية من نوع جفن	ردية وليست من نوع جفن	عادية	ردية من نوع جفن	ردية وليست من نوع جفن	عادية	نوع السلعة الآثار
$Q \uparrow$ (+)	$Q \uparrow$ (+)	$Q \uparrow$ (+)	$Q \downarrow$ (-)	$Q \downarrow$ (-)	$Q \downarrow$ (-)	أثر الإحلال (SE) (سالب دائماً)
$Q \downarrow$ (+)	$Q \downarrow$ (-)	$Q \uparrow$ (+)	$Q \uparrow$ (+)	$Q \uparrow$ (+)	$Q \downarrow$ (-)	أثر الدخل (IE) $\downarrow M \Leftarrow \uparrow P$ $\uparrow M \Leftarrow \downarrow P$
$Q \downarrow$ (IE > SE)	$Q \uparrow$ (SE > IE)	$Q \uparrow$	$Q \uparrow$ (IE > SE)	$Q \downarrow$ (SE > IE)	$Q \downarrow$	الآثار السعرية (PE) (الكلي)