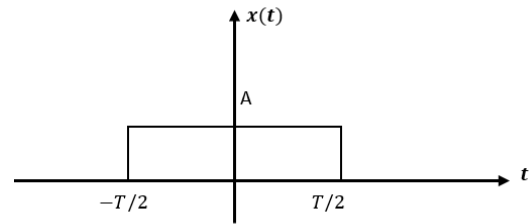


Solution TD2 : Convolution et corrélation

Exercice 1: La convolution

Soit le signal rectangulaire $x(t)$ telle que :

$$x(t) = A \cdot \text{rect}\left(\frac{t}{T}\right),$$

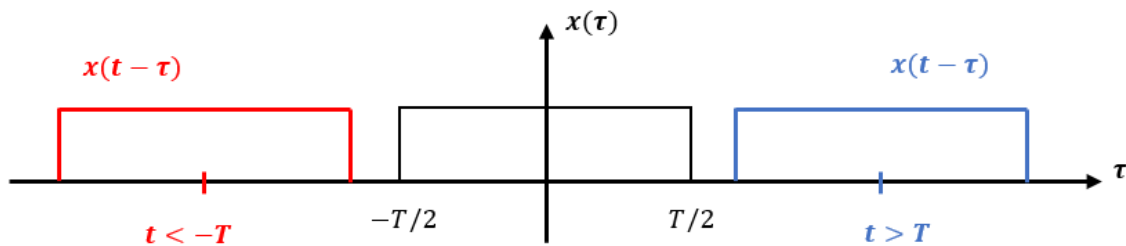


2. Déterminer le produit de convolution: $y(t) = x(t) * x(t)$. Et la représenter.

Convolution du signal avec lui-même :

$$y(t) = x(t) * x(t) = A \cdot \text{rect}\left(\frac{t}{T}\right) * A \cdot \text{rect}\left(\frac{t}{T}\right) = \int_{-\infty}^{+\infty} x(\tau) \cdot x(t - \tau) d\tau$$

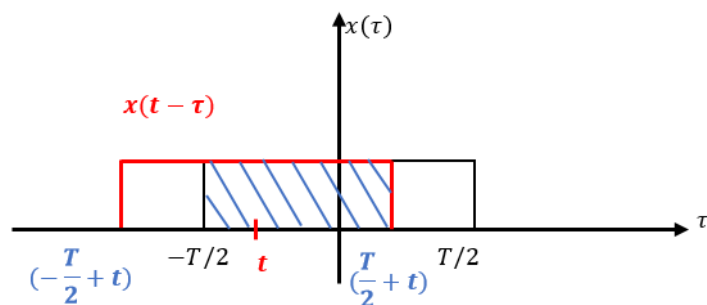
- Si: $t < -T$ ou si: $t > T$:



Il n'y a pas d'intersection entre les deux signaux, donc le produit est nul.

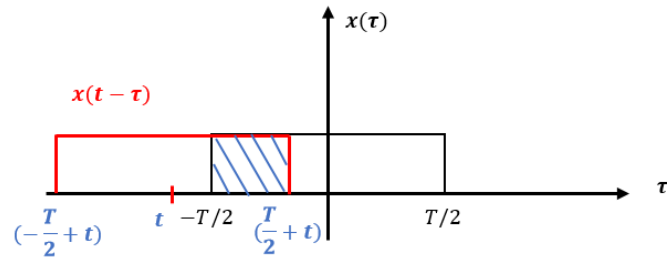
$$x(\tau) \cdot x(t - \tau) = 0 \rightarrow y(t) = 0$$

- Si $-T/2 < t < 0$



$$y(t) = x(t) * x(t) = \int_{-\frac{T}{2}}^{\frac{T}{2}} x(\tau) \cdot x(t - \tau) d\tau = \int_{-\frac{T}{2}}^{t+\frac{T}{2}} A^2 d\tau = A^2 \tau = A^2(t + T)$$

- Si $-T < t < -T/2$

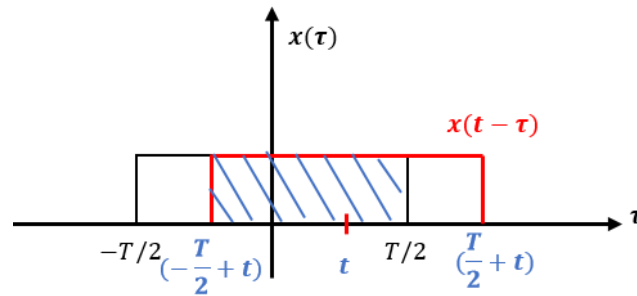


$$y(t) = x(t) * x(t) = \int_{-T/2}^{t+T/2} x(\tau) \cdot x(t-\tau) d\tau = \int_{-T/2}^{t+T/2} A^2 d\tau = A^2 \tau = A^2(t+T)$$

Conclusion : Si: $-T < t < 0$

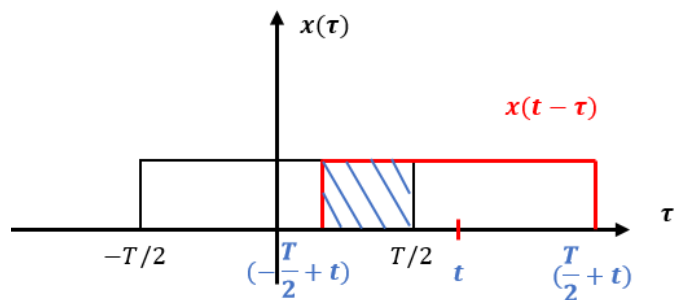
$$y(t) = x(t) * x(t) = A^2(t+T)$$

- Si: $0 < t < T/2$



$$y(t) = x(t) * x(t) = \int_{-T/2+t}^{T/2} x(\tau) \cdot x(t-\tau) d\tau = \int_{-T/2+t}^{T/2} A^2 d\tau = A^2 \tau = A^2(-t+T)$$

- Si: $T/2 < t < T$



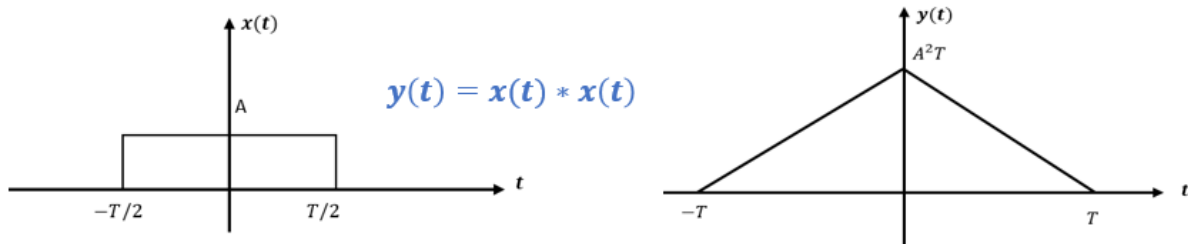
$$y(t) = x(t) * x(t) = \int_{-T/2+t}^{T/2} x(\tau) \cdot x(t-\tau) d\tau = \int_{-T/2+t}^{T/2} A^2 d\tau = A^2 \tau = A^2(T-t)$$

Conclusion : Si: $0 < t < T$

$$y(t) = x(t) * x(t) = A^2(-t+T)$$

Conclusion finale

$$y(t) = x(t) * x(t) = \begin{cases} 0 & \text{si } t < -T \\ A^2(t+T) & \text{si } -T < t < 0 \\ A^2(-t+T) & \text{si } 0 < t < T \\ 0 & \text{si } t > T \end{cases}$$



3. Déduire la transformée de Fourier de $y(t)$: $Y(f)$.

On a la propriété de convolution dans la transformée de Fourier: $x_1(t) * x_2(t) \leftrightarrow X_1(f).X_2(f)$

On a :

$$y(t) = x(t) * x(t)$$

Donc :

$$Y(f) = X(f).X(f)$$

On a d'après l'exercice 3 de TD 2:

$$x(t) = A \operatorname{rect}\left(\frac{t}{T}\right) \Leftrightarrow X(f) = AT \cdot \operatorname{sinc}(\pi fT)$$

Donc :

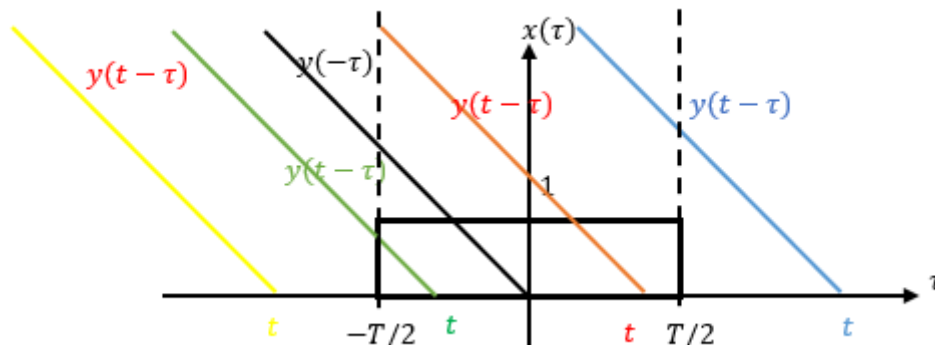
$$Y(f) = X(f)^2 = A^2T^2 \cdot \operatorname{sinc}^2(\pi fT)$$

Exemple du cours : Exemple 1 : Soit à calculé le produit de convolution du signal rectangulaire unitaire de durée (T) avec une rampe unitaire :

$$g(t) = x(t) * y(t) = \int_{-\infty}^{+\infty} x(\tau) \cdot y(t - \tau) d\tau$$

$$g(t) = \text{rect}(t/T) * r(t) = \int_{-\infty}^{+\infty} \text{rect}(\tau/T) \cdot r(t - \tau) d\tau$$

- Si $t < -T/2$: le produit $\text{rect}(\frac{\tau}{T}) \cdot r(t - \tau) = 0 \rightarrow g(t) = 0$



- Si $-T/2 < t < T/2$:

$$g(t) = \text{rect}(t/T) * r(t) = \int_{-T/2}^t (t - \tau) d\tau$$

$$g(t) = \text{rect}(t/T) * r(t) = \int_{-T/2}^t (t - \tau) d\tau = \int_{-T/2}^t t d\tau - \int_{-T/2}^t \tau d\tau = t\tau - \frac{1}{2}\tau^2$$

$$g(t) = \text{rect}(t/T) * r(t) = t^2 + t\frac{T}{2} - \frac{1}{2}\left(t^2 - \frac{T^2}{4}\right)$$

- Si $t > T/2$

$$g(t) = \text{rect}(t/T) * r(t) = \int_{-T/2}^{\frac{T}{2}} (t - \tau) d\tau = \int_{-T/2}^{\frac{T}{2}} t d\tau - \int_{-T/2}^{\frac{T}{2}} \tau d\tau = tT - \frac{1}{2}t^2$$

$$g(t) = \text{rect}(t/T) * r(t) = tT$$

Donc le resultat de la convolution est :

$$g(t) = \begin{cases} 0 & \text{si } t < -T/2 \\ t^2 + t\frac{T}{2} - \frac{1}{2}\left(t^2 - \frac{T^2}{4}\right) & \text{si } -T/2 < t < T/2 \\ tT & \text{si } t > T/2 \end{cases}$$