


امتحان مادة فيزياء 3

التمرين 1: نقاط

(6,7) تتكون جملة ميكانيكية من أسطوانة نصف قطرها R وكتلتها m، ونابض ذو ثابت مرونة K كما في الشكل المقابل الحالة a- الأسطوانة تنزلق بدون احتكاك (الكرة تتسحب ولا تدور) أوجد عبارة كل من :



1- الطاقة الكامنة (مختصرة) $E_p = \frac{1}{2} K x^2, x = R\theta$ (0,7)

$E_p = \frac{1}{2} K R^2 \theta^2$ (0,7)

2- الطاقة الحركية $E_c = \frac{1}{2} m v^2 = \frac{1}{2} m R^2 \dot{\theta}^2$

$E_c = \frac{1}{2} m R^2 \dot{\theta}^2$ (1)

3- المعادلة التفاضلية للحركة $\frac{dE}{dt} = 0, E = E_c + E_p$

$\frac{dE}{dt} = (m R^2 \dot{\theta} + K R^2 \theta) \dot{\theta} = 0 \Rightarrow m \dot{\theta} + K \theta = 0 \Rightarrow \ddot{\theta} + \frac{K}{m} \theta = 0$ (4)

4- النابض الذاتي للجملة $\omega_0 = \sqrt{K/m}$ (0,7)

الحالة b- الأسطوانة تدور بدون انزلاق (الكرة تتسحب وتدور) أوجد عبارة كل من

1- الطاقة الكامنة (مختصرة) $E_p = \frac{1}{2} K x^2, x = R\theta \Rightarrow E_p = \frac{1}{2} K R^2 \theta^2$ (0,7)

2- الطاقة الحركية $E_c = \frac{1}{2} m v^2 + \frac{1}{2} J \dot{\theta}^2, J = \frac{1}{2} m R^2$ و $v = R \dot{\theta}$

$E_c = \frac{1}{2} (m R^2 + \frac{1}{2} m R^2) \dot{\theta}^2 = \frac{3}{4} m R^2 \dot{\theta}^2$ (0,7)

3- المعادلة التفاضلية للحركة $\frac{dE}{dt} = 0$

$(\frac{3}{2} m R^2 \dot{\theta} + K R^2 \theta) \dot{\theta} = 0 \Rightarrow \frac{3}{2} m \dot{\theta} + K \theta = 0 \Rightarrow \ddot{\theta} + \frac{2K}{3m} \theta = 0$ (0,7)

4- النابض الذاتي للجملة $\omega_0 = \sqrt{2K/3m}$ (0,7)

التمرين 2: نقاط

في الشكل المقابل الجملة الميكانيكية متكونة من ساق مهملة الكتلة طولها 2L قابلة للدوران حول مركزها النقطة O يكون النظام في حالة التوازن عند $\theta = 0$ والاهتزازات صغيرة.

1- أوجد المعادلة التفاضلية بطريقتين

(a) طريقة الطاقة أو طريقة لاغرانج (الطاقة الكامنة مختصرة)

$E_c = \frac{1}{2} m \dot{\theta}^2 = \frac{1}{2} m L^2 \dot{\theta}^2$ (0,7)

$E_p = \frac{1}{2} K x^2 = \frac{1}{2} K L^2 \theta^2$ (0,7)

$D = \frac{1}{2} \alpha x^2 = \frac{1}{2} \alpha L^2 \theta^2$ (0,7)

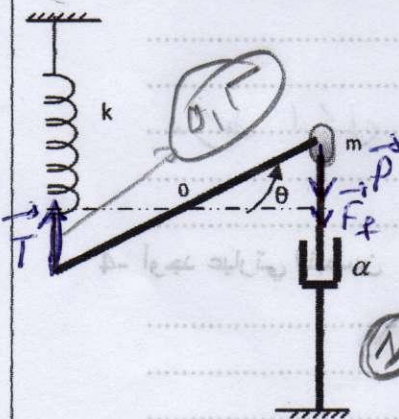
(2) $\frac{d}{dt} \left(\frac{\partial L}{\partial \dot{\theta}} \right) = \frac{\partial L}{\partial \theta} \Rightarrow \frac{\partial}{\partial \dot{\theta}} \left(\frac{1}{2} m L^2 \dot{\theta}^2 \right) = \frac{\partial}{\partial \theta} \left(\frac{1}{2} K L^2 \theta^2 \right)$

$\frac{\partial L}{\partial \dot{\theta}} = m L^2 \dot{\theta}, \frac{\partial L}{\partial \theta} = K L^2 \theta, \frac{d}{dt} (m L^2 \dot{\theta}) = K L^2 \theta \Rightarrow m L \ddot{\theta} + K L \theta = 0$

$m L \ddot{\theta} + 4 L \theta + K L \theta = 0 \Rightarrow \ddot{\theta} + \frac{4}{m} \theta + \frac{K}{m} \theta = 0$

(0,7)

(0,7)

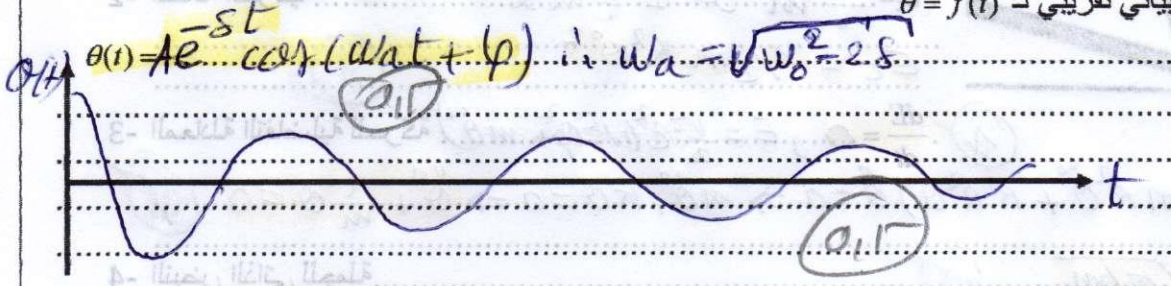


امتحان مادة فيزياء 3

(b) طريقة نيوتن (العزوم): عند التوازن: $\Sigma \vec{E}(F_i) = 0 \Rightarrow -k\Delta L - mgL = 0$

عند الحركة $\Sigma \vec{E}(F_i) = \vec{F}_0 = mL\ddot{\theta}$
 $-k(x + \Delta L) - mgL = mL\ddot{\theta}$
 $mL\ddot{\theta} + kL\theta + kL\Delta L + mgL = 0 \Rightarrow \ddot{\theta} + \frac{k}{m}\theta + \frac{k\Delta L}{m} + \frac{mg}{m} = 0$

2- إذا كان الحل الناتج عبارة عن إهتزازات متخامدة فاكتب العبارة العامة لشكل الحل $\theta(t)$ مع رسم بياني تقريبي لـ $\theta = f(t)$



3- في حالة التخماد أوجد معامل الزوجة α بدلالة m و k

$\alpha_c = \gamma \cdot \delta = \omega_0 \Rightarrow \frac{\alpha_c}{2m} = \sqrt{\frac{k}{m}} \Rightarrow \alpha_c = \omega_0 \sqrt{k m}$

التمرين 3: نقاط
لدينا جملة

(1) $\ddot{x}_1 + 16x_1 - 8x_2 = 0$
 (2) $\ddot{x}_2 + 16x_2 - 8x_1 = 0$

1- ما هو عدد درجات الحرية معللا ذلك

2- كيف يكون شكل الحلين المختارين ل $x_2(t)$ و $x_1(t)$

$x_2(t) = A_2 e^{i\omega t} \cos(\omega t + \varphi_2)$, $x_1(t) = A_1 e^{i\omega t} \cos(\omega t + \varphi_1)$

3- بالتعويض في المعادلتين أعلاه بعبارتي $x_2(t)$ و $x_1(t)$ فما هو شرط حل جملة المعادلتين المتحصل عليها.

$(16 - \omega^2)A_1 - 8A_2 = 0$ I
 $8A_1 + (16 - \omega^2)A_2 = 0$ II

$(16 - \omega^2)^2 - (8)^2 = 0$

4- أوجد عبارتي النبطين ω_1 و ω_2

$[(16 - \omega^2) - 8][(16 - \omega^2) + 8] = 0$

$\omega^2 = 8 \Rightarrow \omega = \sqrt{8}$
 $\omega^2 = 24 \Rightarrow \omega = \sqrt{24}$